



Nota:

Valor:

ass. Prof.

Turma:

Bonjour, chéri(e) !
Nos activités de la semaine

1) Comment ça va aujourd'hui ? Coche la (ou les) bonne(s) réponse(s) :

JE ME SENS:



CONTENT(E)



TRISTE



TIMIDE



FÂCHÉ(E)



EXCITÉ(E)



FIÈR(E)



INQUIET(E)



FATIGUÉ(E)



COUPABLE



FRUSTRÉ(E)



EFFRAYÉ(E)



DÉÇU(E)

©Elise Gravel

Aujourd'hui je me sens _____.

2) Les formes géométriques :

Les formes

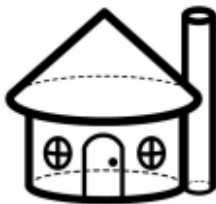
Indique le numéro de chaque forme dans les cases

<input type="checkbox"/>		<input type="checkbox"/>		<input type="checkbox"/>		
<input type="checkbox"/>			<ol style="list-style-type: none">1. ovale2. triangle3. cercle4. carré5. rectangle6. losange7. parallélogramme8. trapèze9. hexagone10. pentagone11. étoile	<input type="checkbox"/>		
		<input type="checkbox"/>				
		<input type="checkbox"/>			<input type="checkbox"/>	
<input type="checkbox"/>		<input type="checkbox"/>		<input type="checkbox"/>		

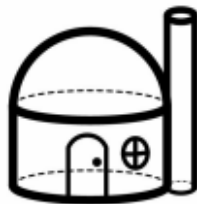
3) Compréhension écrite :



Trouve les maisons des trois petits cochons.



maison A



maison B



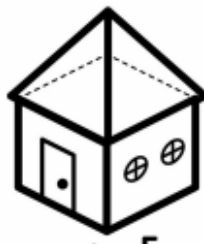
maison C



maison D



maison E



maison F



maison G



J'aime les cercles. Ma maison est en cylindre. Le toit est un cône et la cheminée un cylindre. Elle a une porte et deux jolies fenêtres.

Réponse: _____



Ma maison est faite avec un cube. Le toit est une pyramide à base carrée. Elle a une porte et deux fenêtres carrées. La cheminée est un prisme à base carrée. Réponse: _____



Ma maison a deux fenêtres et une porte. Elle est construite avec un prisme à base rectangulaire. Le toit est un prisme à base triangulaire. Elle a une cheminée en cylindre. Réponse: _____

4) Compréhension écrite :

Les chats

Les chats sont des animaux que les gens gardent comme animaux domestiques. Ils ont quatre pattes, les poils et des moustaches. Les chats aiment boire de l'eau ou du lait. Les bébés chats s'appellent les chatons.




1. Décris un chat.

2. Qu'est-ce que les chats boivent?

3. Comment s'appellent les bébés chats?

5) À l'épicerie - mathématiques des aliments :



Combien as-tu acheté de...

- a) carottes: _____ b) fraises: _____ c) citron: _____
d) fromage: _____ e) pommes: _____ f) bananes: _____

Indique si l'énoncé est vrai ou faux. Encerle la bonne réponse.

- a) Il y a **plus** de carottes que de bananes. Vrai Faux
b) Il y a **moins** de pommes que de fraises. Vrai Faux
c) Il y a **autant** de carottes que de pommes. Vrai Faux
d) Il y a **autant** de fromage que de citron. Vrai Faux